

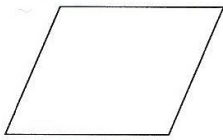
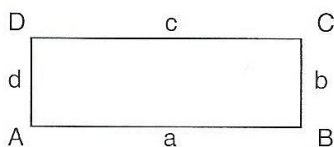


Lösungen zu „Fit in Mathe: Flächen – Kreis - Winkel“:

1. Richtig oder falsch? Bessere aus:

Rechteck	
Quadrat	
Parallelogramm	

2. Benenne Seiten und Ecken:



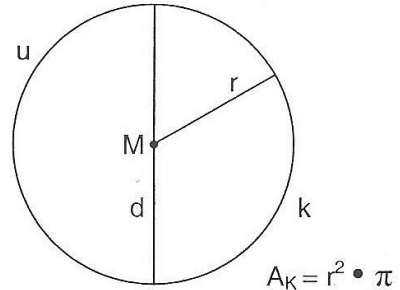
3. Ordne richtig zu:

45°	spitzer Winkel
90°	rechter Winkel
111°	stumpfer Winkel

4. Rätsel:

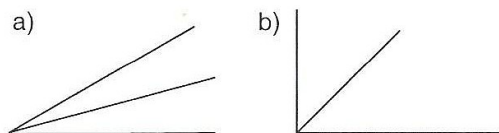
	m	km
ein Fünftel eines Kilometers	200	0,200
drei Fünftel eines Kilometers	600	0,600
das Doppelte von 3 Kilometern	6 000	6

1. Richtig oder falsch? Ordne richtig zu:



d = Durchmesser	r = Radius
M = Mittelpunkt	k = Kreislinie
u = Umfang	A _K = Kreisfläche

2. Verdopple Winkel a und halbiere Winkel b:



3. Ordne richtig zu:

45°	spitzer Winkel
180°	gestreckter Winkel
192°	überstumpfer Winkel

4. Rätsel:

	dm ²	m ²
ein Viertel eines Quadratmeters	25	0,25
drei Viertel eines Quadratmeters	75	0,75
das Doppelte von drei viertel Quadratmetern	150	1,50