

Lösungen zum Wochenplan 20.4. – 24.4.20

Mathe

Zu Buchseite 142/143

3 a) Es eignen sich A und C.

Begründung:

Alle Daten sind durch 1 bzw. 5 teilbar, nicht aber durch 3.

c) **Augenfarben** ☺: 5 Nennungen

braun ☺☺☺☺☺

blau ☺☺☺

grau ☺☺☺☺

grün ☺

b) Einheit C

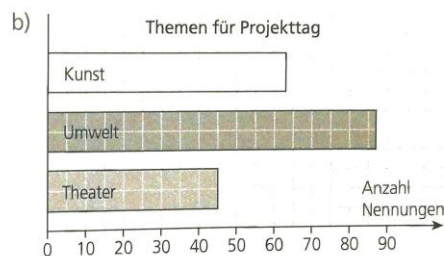
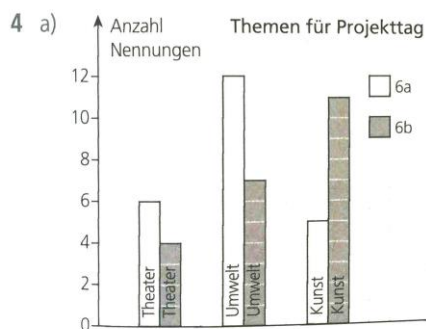
Begründung:

Es müssen nicht so viele Symbole gezeichnet werden.

d) gewählte Einheit: ☺: 2 Nennungen

grau: 10 Smileys

grün: 2 Smileys und einen halben Smiley



5 Es sind individuelle Lösungen möglich.

Beispiele:

Höchstgeschwindigkeit:

Säulendiagramm/Balkendiagramm (Einheit: 10 km/h: 1 cm)

Altersrekorde:

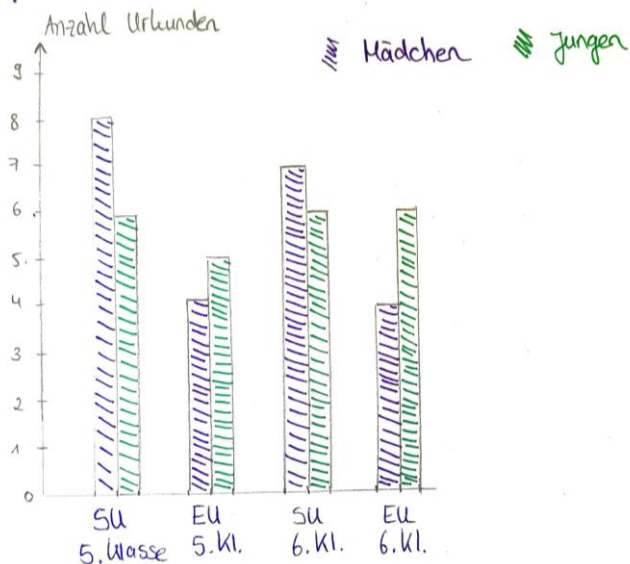
Säulendiagramm/Balkendiagramm (Einheit: 10 Jahre: 1 cm)

Höchstgewicht:

Säulendiagramm/Balkendiagramm (Einheit: 100 kg: 1 cm)

BS. 143/6

Hier gibt es mehrere richtige Lösungen. Eine mögliche Lösung wäre:

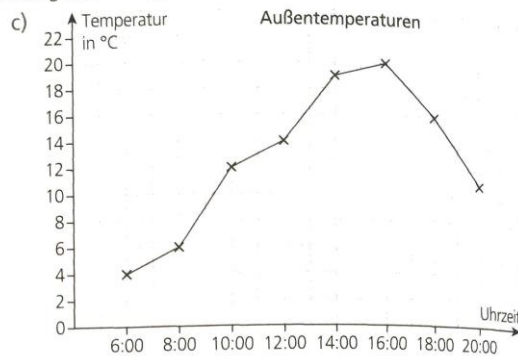


Zu Buchseite 144

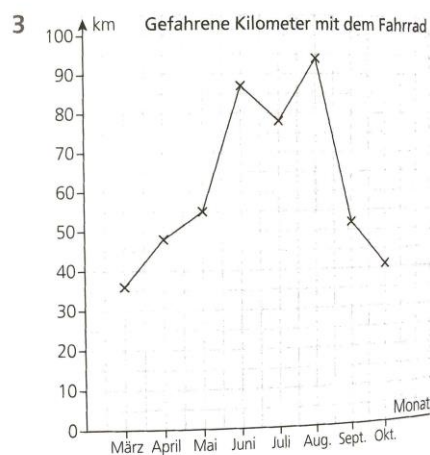
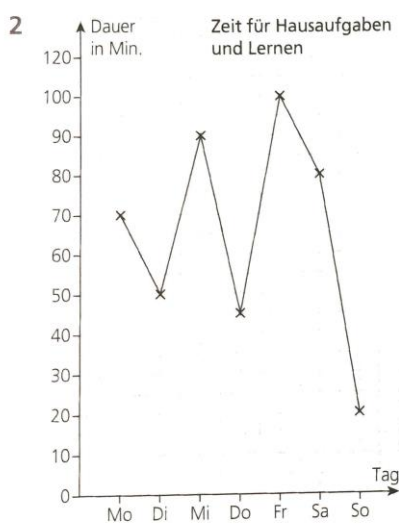
1 a) Elena hat ihre Daten in einem Liniendiagramm dargestellt.

b)

Uhrzeit	Temperatur
6:00	4 °C
8:00	6 °C
10:00	12 °C
12:00	14 °C
14:00	19 °C
16:00	20 °C
18:00	16 °C
20:00	11 °C



d) Es sind individuelle Lösungen möglich.



Deutsch

Wer die Aufgaben im Buch verbessert haben möchte und die Möglichkeit hat die Übungen einzuscannen oder abzufotografieren, der darf diese gerne an meine Mail-Adresse senden. Ich freue mich über jede Rückmeldung, die ich geben kann!

Becker.Unterricht@gmx.de

Die Lösungen zum Arbeitsblatt findest du auf der nächsten Seite.

Name:

Klasse:

Datum: 24.04.20

Die Satzglieder bestimmen

- 1 a. Trenne die Satzglieder durch senkrechte Striche voneinander ab.
b. Stelle den Satz zweimal um.

Meine Freundin Youstra | streichelt | den kleinen Hund.

Aussagesatz: Den kleinen Hund streichelt meine Freundin Youstra.

Fragesatz: Streichelt meine Freundin Youstra den kleinen Hund?

- 2 Kennzeichne in jedem Satz das Subjekt mit einem Dach.

Meine Geschwister nerven mich oft. Aber Monopoly spielen wir
gern zusammen.

Wenn mein Bruder gewinnt, spendiert er uns Süßigkeiten.

Wer oder was?
→ Subjekt

- 3 Kreise in jedem Satz das Prädikat ein.

Youstra und Kati spielen im Hof Federball. Als der Ball
zum dritten Mal in der Tanne landet, geben sie auf

Was tut/tun?
→ Prädikat

- 4 a. Umrahme die Akkusativobjekte und Dativobjekte.
b. Markiere die Dativobjekte zusätzlich farbig.

Tante Irene besucht einmal im Jahr ihre Nichten und Neffen.

Sie bringt den Kindern meist die erstaunlichsten Geschenke mit.

Deshalb erwarten Kevin und Bea die Tante schon ungeduldig.

Dieses Mal schenkt sie Kevin eine echt aussehende Gummischlange.

Damit wird er seinen Freund demnächst einen gehörigen Schrecken einjagen.

Wen oder was?
→ Akkusativobjekt
Wem?
→ Dativobjekt

- 5 Unterkringle die adverbialen Bestimmungen der Zeit und des Ortes.

Am Samstagnachmittag fuhr ich zu Jasmin.

Im Bus hatte ich etwas Angst, die Haltestelle zu verpassen.

Deshalb stand ich zwanzig Minuten lang neben der Bustür.

Jasmin wartete schon an der Haltestelle auf mich.

Nach dem Abendessen holte mein Vater mich mit dem Auto ab.

Wann? Wie lange?
→ Bestimmung der Zeit
Wo? Wohin?
→ Bestimmung des Ortes